




# SNAP

## Le sens du nombre (0 - 10 000)

Nom: \_\_\_\_\_


Date: \_\_\_\_\_



Compte à  
**reculons**  
par \_\_\_\_\_ à partir



Compte à  
**l'avance**  
par \_\_\_\_\_ à partir



Dessine une image qui  
représente la valeur du  
nombre:


Écris pour décrire ton image:

Écris le nombre en forme  
développée:

Écris 3 équations qui sont  
équivalentes au nombre:

Écris un exemple concret  
qui démontre la valeur de  
ce nombre:

Indique où le nombre se situe sur la droite numérique



**Réfléchis:**

Raisonner et analyser : Image et  
forme développée

1 2 3

Comprendre et résoudre:  
3 équations

1 2 3

Communiquer et représenter:  
Exemple concret

1 2 3

Faire des liens et réfléchir:  
Compter et droite numérique

1 2 3