



Nom: _____

Date: _____

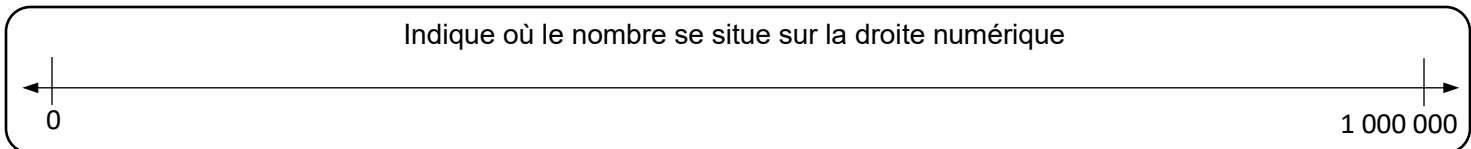


Compte à
reculons
par _____ à partir

Compte à
l'avance
par _____ à partir



Dessine une image qui représente la valeur du nombre:	Écris pour décrire ton image:
Écris 3 équations qui sont équivalentes au nombre:	Écris le nombre en forme développée:
Écris un exemple concret qui démontre la valeur de ce nombre:	Écris un exemple concret qui démontre la valeur de ce nombre:



Réfléchis:

Raisonnement et analyse : Image et forme développée

1 2 3

Comprendre et résoudre: 3 équations

1 2 3

Communiquer et représenter: Exemple concret

1 2 3

Faire des liens et réfléchir: Compter et droite numérique

1 2 3