



Compte à l' avance par _____ à partir du nombre




<p>Dessine une image qui représente la valeur du nombre:</p>	<p>Écris pour décrire ton image:</p>
<p>Écris 3 équations qui sont équivalentes au nombre:</p>	<p>Écris le nombre en forme développée:</p>
	<p>Écris un exemple concret qui démontre la valeur de ce nombre:</p>



Compte à reculons par _____ à partir du nombre

Indique où le nombre se situe sur la droite numérique



Réfléchis:

Raisonnement et analyse : Image et forme développée

1 2 3

Comprendre et résoudre: 3 équations

1 2 3

Communiquer et représenter: Exemple concret

1 2 3

Faire des liens et réfléchir: Compter et droite numérique

1 2 3