


# SNAP

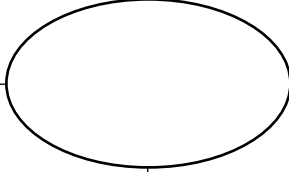
## Le sens du nombre (0 - 10 000)

Nom: \_\_\_\_\_

Date: \_\_\_\_\_

Compte à l'avance  
par \_\_\_\_\_ à partir  
du nombre

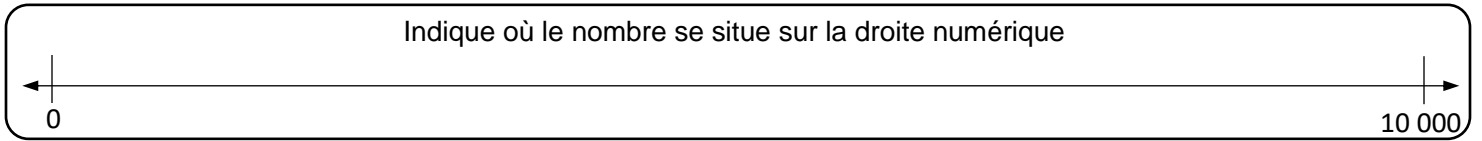


<p>Dessine une image qui représente la valeur du nombre:</p>	<p>Écris pour décrire ton image:</p>
<p>Écris 3 équations qui sont équivalentes au nombre:</p>	<p>Écris le nombre en forme développée:</p>
	
<p>Écris un exemple concret qui démontre la valeur de ce nombre:</p>	

↓

Compte à reculons  
par \_\_\_\_\_ à partir  
du nombre

Indique où le nombre se situe sur la droite numérique



**Réfléchis:**

Raisonner et analyser : Image et  
forme développée

1 2 3

Comprendre et résoudre:  
3 équations

1 2 3

Communiquer et représenter:  
Exemple concret

1 2 3

Faire des liens et réfléchir:  
Compter et droite numérique

1 2 3